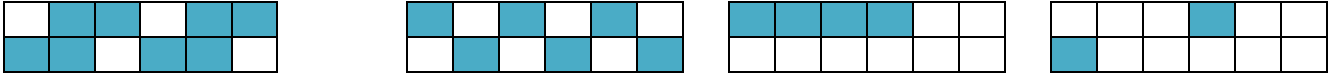
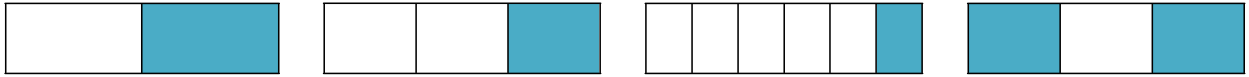


Activité : égalités de fractions

1) Relier par un trait les figures dont les proportions de surface grisée sont égales.



2) En déduire les égalités de fractions correspondantes :

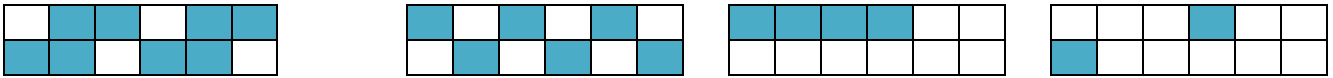
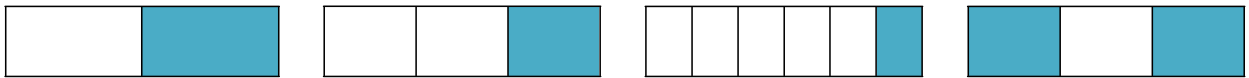
..... $\frac{\quad}{\quad}$ $\frac{\quad}{\quad}$ $\frac{\quad}{\quad}$ $\frac{\quad}{\quad}$

3) Comment passe-t-on d'une fraction à sa fraction égale avec une même opération sur le numérateur et le dénominateur ?

.....

Activité : égalités de fractions

1) Relier par un trait les figures dont les proportions de surface grisée sont égales.



2) En déduire les égalités de fractions correspondantes :

..... $\frac{\quad}{\quad}$ $\frac{\quad}{\quad}$ $\frac{\quad}{\quad}$ $\frac{\quad}{\quad}$

3) Comment passe-t-on d'une fraction à sa fraction égale avec une même opération sur le numérateur et le dénominateur ?

.....
