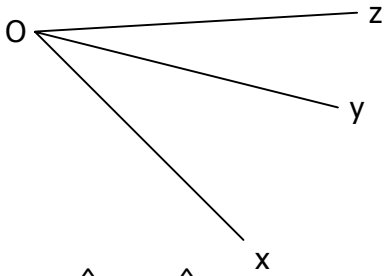
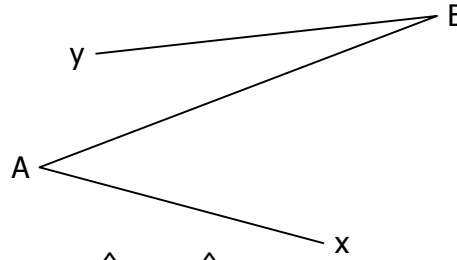


EXERCICE 1.1 - Marquer d'un arc de couleur les deux angles nommés, puis cocher la bonne réponse :



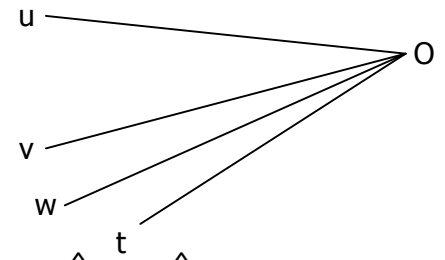
1. \widehat{xOy} et \widehat{yOz} sont adjacents.

Vrai Faux



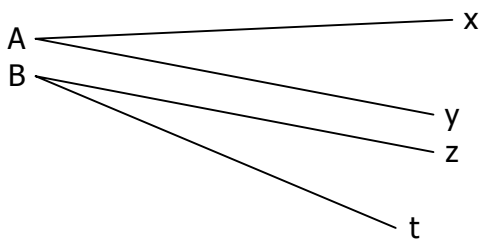
2. \widehat{yBA} et \widehat{BAx} sont adjacents.

Vrai Faux



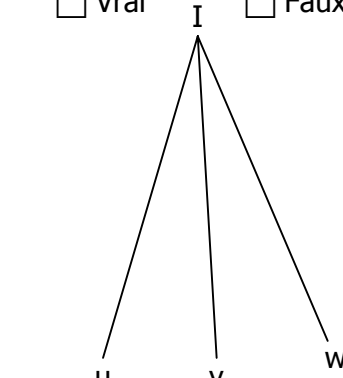
3. \widehat{uOv} et \widehat{wOt} sont adjacents.

Vrai Faux



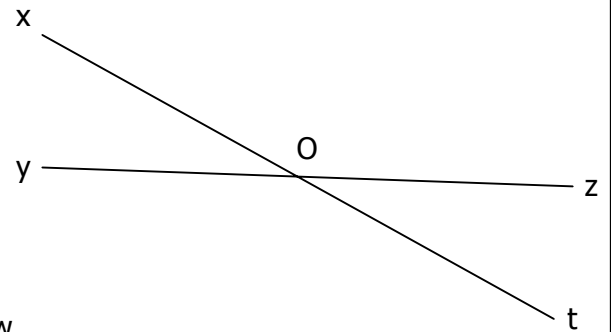
4. \widehat{xAy} et \widehat{zBt} sont adjacents.

Vrai Faux



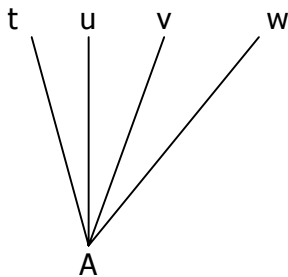
5. \widehat{uIv} et \widehat{uIw} sont adjacents.

Vrai Faux



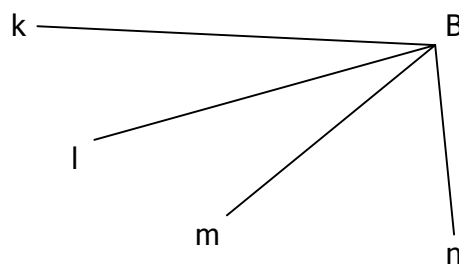
6. \widehat{xOy} et \widehat{zOt} sont adjacents.

Vrai Faux



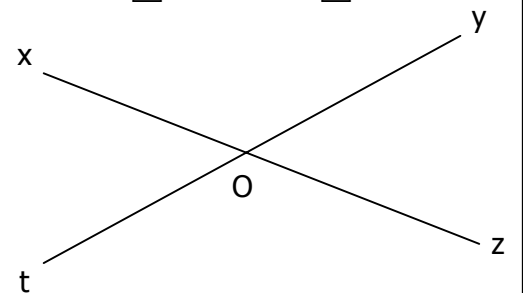
7. \widehat{tAv} et \widehat{vAw} sont adjacents.

Vrai Faux



8. \widehat{kBm} et \widehat{lBn} sont adjacents.

Vrai Faux



9. \widehat{xOy} et \widehat{tOx} sont adjacents.

Vrai Faux